

8. SINIF



ŞANLIURFA İL MİLLİ EĞİTİM MÜDÜRLÜĞÜ

DENEME SINAVI

Ar-Ge Birimi Çalışmasıdır

- ❖ Bu Deneme Sınavı Türkçe, Matematik, Din Kültürü ve Ahlak Bilgisi derslerinden oluşmaktadır.
- ❖ Sınav 60 soru üzerinden 80 dakikadır.

TEOG
1. OTURUM

DİZGİ & TASARIM

İBRAHİM CANBEK

MEHMET BOZKURT

1. Aşağıdaki cümlelerde altı çizili kelimelerin hangisi karşısında verilen anlama uygun kullanılmamıştır?

	Cümle	Anlam
A)	Gemi, fırtınaya iyi <u>dayandı</u> .	Zarar görmemek, varlığını korumak.
B)	Senin gözlerin gönlümü dolduran kara düşünceleri <u>silecek</u> .	Ortadan kaldırmak, yok etmek veya gidermek.
C)	Son yaptıklarından sonra ondan iyice <u>soğudum</u> .	Isısını hızla veya yavaş yavaş yitirerek soğuk duruma gelmek.
D)	Böyle bir yolculuğa senin için <u>katlandım</u> .	Hoş olmayan bir duruma, güç şartlara dayanmak, tahammül etmek.

2. Yazar, hikâyelerinde seçtiği olayları bire bin katarak okuyucuya aktarmayı seviyordu. **Altı çizili deyim bu metne kattığı anlam aşağıdakilerden hangisidir?**
- A) Ayrıntıya inmek.
B) Çok abartmak.
C) Gerçekçi olmak.
D) En ince noktalarına değinmek.

3. 1) Halide Edip Adivar'ın Bütün Eserleri serisinin ilki olarak yayımlanan Mor Salkımlı Ev, yazarın çocukluk günlerinden 1918'e kadar olan hatıralarıdır. 2) Kalemle alınan bu eserde o dönemin siyasal ve ruhsal olaylarını, zihniyetini öğrenebiliriz. 3) Yeni İstanbul gazetesindeki yayımı ve hatıralarının İngilizce baskısı ile karşılaştırılarak hazırlanmıştır. 4) Mor Salkımlı Ev, yazarın özgün anlatımı ve sadeleştirilmemiş orijinal diliyle ve günümüz genç okuru da düşünülerek notlar ve açıklamalarla sunuluyor. **Bu parçada numaralanmış cümlelerden hangisi kanıtlanabilirlik açısından diğerlerinden farklıdır?**
- A) 1.
B) 2.
C) 3.
D) 4.

4. Ela gözlerine kurban olduğum Yüzüne bakmaya doyamayan ben İbret için gelmiş derler cihana Noktadır benleri sayamadım ben **Bu dörtlükle ilgili aşağıdakilerden hangisi yanlıştır?**
- A) Abartma vardır.
B) Konuşurma söz sanatının örneği vardır.
C) Dördüncü dizede benzetme yapılmıştır.
D) Şair, öznel ifadelere yer vermiştir.
5. **Aşağıdakilerden hangisi sebep-sonuç cümlesidir?**
- A) Şiddetli don yüzünden bütün sera büyük zarar gördü.
B) Diplomasını almak için üniversitenin yolunu tuttu.
C) Dedemin eski eşyalarını buldukça çok mutlu oluyorum.
D) Yükselen alevleri söndürmek için su sıkıldılar.
6. Eğitimden beklenen kişiye bütünlüklü bir çerçeve sunması, kişinin kendisi ve "dünya" ile anlamlı bir bağ kurmasına yardımcı olmasıdır. Başarının ve bilginin değerlendirilmesinde performans ve reytingin kıstas haline geldiği bir dünyada bu bağı nasıl kuracağız? Eğitim kurumlarından aldığımız belgelerle cehaletimizi örtebilir miyiz? Ama asıl mesele, yeni sorular sorabilmemizi sağlayacak bir çerçeve çizmek. **Bu metin aşağıdaki yazı türlerinden hangisine örnek gösterilebilir?**
- A) Makale
B) Röportaj
C) Anı
D) Sohbet

7. Sokrates'ten önceki ilk Batılı filozoflar, geçmişten iki büyük kopuşu aynı anda gerçekleştirdiler. İlk önce, kendi akıllarını kullanarak dünyayı anlamaya çalıştılar. Bu tek başına, tümüyle yeni bir şeydi ve insanın gelişmesinde en önemli köşe taşlarından birini oluşturdu. Aynı zamanda insanlara, akıllarını nasıl kullanacaklarını ve kendi başlarına nasıl düşüneceklerini de öğrettiler.

..... Onlar bilgi birikimlerini olduğu gibi öğrencilerine aktarmak yerine, onları tartışmaya, düşünce alışverişinde bulunmaya, kendi düşüncelerini ileri sürmeye ve savlarını kanıtlamaya özendiren öğretmenlerdi.

Bu parçadaki boşluk düşüncenin akışına göre aşağıdakilerden hangisiyle devam ettirilebilir?

- A) Düşünce tarihinde bu yaklaşımlar, çok büyük tartışmalara konu oldu.
- B) Dolayısıyla, öğrencilerinin de kendileriyle tıpatıp aynı düşüncede olmasını beklemediler.
- C) Bu tutum, günümüz düşünce dünyasında da varlığını sürdürmektedir.
- D) İnsanlığın zihinsel serüveninde ortaya çıkan bu iki yöntem birbirini etkileyen bir gelişim süreci izlemiştir.

8. Ben hiçbir zaman ödüllere karşı olmadım. Ödüller bir yazarın adını duyurabilmesi açısından elbette önemli. Özellikle İzmir'de yaşarken adını edebiyat dünyasına ancak birtakım yarışmalar sayesinde duyurabilen biri için... Adımı yarışmalarla duyurdum ama kuşkusuz bu ödül bana ayrı bir sorumluluk yükledi. 'Sait Faik Öykü Ödülü alan birine bu yakışmaz.' diyerek yazdıklarım üzerinde öz denetim kurduğum zamanlar oldu, bu da bir yazar için sınırlayıcı olabiliyor.

Bu sözler aşağıdaki sorulardan hangisine karşılık söylenmiş olabilir?

- A) Bugüne kadar kaç edebiyat ödülü aldınız?
- B) Aldığınız ödüller öykülerinizin çok okunmasını sağladı mı?
- C) Ödüller yazarları hangi yönden etkiler?
- D) Ödüller edebiyat alanında tanınmanın tek koşulu mudur?

9. Etrafı okşuyor mayısın taze rüzgârı. Karşımda köhne Üsküdar'ın dost ışıkları... Kimlersiniz? Ya bağı yanık kimselersiniz! Yahut da her sabah uyanık kimselersiniz!

Bu dörtlükteki söz sanatı aşağıdakilerden hangisidir?

- A) Konuşturma
- B) Kişileştirme
- C) Abartma
- D) Benzetme

10. Zekâ testleri, kişilerin yeteneklerini ölçüp diğer kişilerle kıyaslamak amacıyla ortaya çıkmıştır. Yakın dönemde zekâ testleri üzerine ilk çalışmalar 19. yüzyıl sonlarına doğru başlamıştır. 76 ayrı test hazırlanmış ve zekânın değişmez belirleyicileri olarak kabul edilmiştir. Alfred Binet ve Theodore Simon zekâyı ölçmek için bir sistem geliştirmişlerdir. Buna göre çeşitli yaş gruplarındaki insanların ortalama başarıları esas alınarak ortalama puanlar oluşturulmuş ve kişinin başarıları bu ortalamaya göre değerlendirilmiştir. Bu yöntem günümüz IQ testlerinde de kıyaslama ölçütü olarak kullanılmaktadır.

Bu metnin dil ve anlatım özellikleriyle ilgili aşağıdakilerden hangisi söylenemez?

- A) Açıklayıcı anlatım biçimi kullanılmıştır.
- B) Sayısal verilerden yararlanılmıştır.
- C) Karşılaştırma yapılmıştır.
- D) Benzetmeye yer verilmiştir.

11. Yazar, Türkçeye hâkim, dilin inceliklerini bilen, ses özelliklerine uygun, anlam özelliklerini biçim bilgisiyle şekillendiren kişidir. Bu özellikleri kullanarak dile yeni bir soluk, yeni bir bakış açısı kazandırabilir. Tüm bunların yanında yazarlar, dilciler kaç kural çıkaracak diye eserlerini oluşturamaz. Yazdıklarıyla eserlerine yeni kelimeler ekleyebilir. Dili ince ince işlerken sadece dilciye değil, edebiyat tarihçisine, toplumbilimcilerine, dille ilgilenen herkese yeni kapılar açar.

Bu parçadan yazarlarla ilgili hangisi çıkarılamaz?

- A) Dili geliştirerek kalıcı olmaya çalıştıkları.
- B) Dilin söz varlığını geliştirdikleri.
- C) Dil konusunda geniş ufukları oldukları.
- D) Dilin anlatım yöntemlerini geliştirdikleri.

12. İnsanların bir şeyi kabullenmelerini istiyorsanız, o şeyi sürekli tekrar etmeniz gerekir. "Kaynayan Kurbağa Sendromu" diye bilinen bir kavram vardır. Bilimsel bir deneyden yola çıkarak genelleşmiştir. Önce hayvanı kaynar suyun içine atarlar. Kurbağanın sıcak suya değmesiyle, tekrar dışarı sıçraması bir olur. Bilim adamları bu kez deneyin ikinci kısmına geçerler. Bu sefer kurbağayı normal bir suyun içine bırakırlar. Bu kurbağanın hoşuna gider. Başlar keyifle yüzmeye. Bilmediği şey ise, suyun alttan yavaş yavaş ısıtıldığıdır. Hayvan ortama alışmaya çalışır. Suyun ısısı hafif yükseltildiğinde ise kaçmaya yeltenmez. Çünkü bu hoşuna gider. Onun hoşuna gitmeyen kaynar sudur. Suyun ısısı arttıkça hayvan bundan rahatsız olmaya başlar fakat kaçmaya da yeltenemez. Sıcaktan iyice gevşeyerek can verir.

Bu metinde anlatılmak istenen aşağıdakilerden hangisidir?

- A) İnsanlar yavaşça gerçekleşen değişikliklere tepkisiz kalırlar.
- B) Hayatta kalmak istiyorsak ani hareketler yapmalıyız.
- C) Başarıya ulaşmak için sadece çalışmak yeterli olmaz.
- D) Mutlu olmak istiyorsak bulunduğumuz ortama ayak uydurmalıyız.

13. Günümüzde teknolojinin ilerlemesiyle hayatımız kolaylaşsa da özellikle akıllı telefonlar nedeniyle birbirimizden uzaklaşmış durumdayız. Ancak sosyal medya diye bir kavram var ki yüz yüze iletişim kurmaya zaman ayırmamak da her an birbirimizin yanındaymış gibi davranıyoruz. Bazen yediğimiz bir yemeği bazen kiminle nerde oturduğumuzu, ne yaptığımızı bir fotoğrafla çevremize duyuruyoruz. Beğenilme duygusuyla en güzel halimizi sergilerken mahremiyetimizin ortalığa saçılıp dökülmesinden rahatsızlık duymuyoruz.

Yukarıdaki metinde "sosyal medya" ile ilgili aşağıdakilerden hangisine değinilmemiştir?

- A) Sosyal medya sayesinde özelimizi herkesle paylaştığımızı.
- B) Sosyal medyadaki paylaşımlarımızın çok beğenildiğine.
- C) Özel hayatlarımızı sergilemekten rahatsızlık duymadığımızı.
- D) Sosyal medya ile yediklerimizi bile paylaştığımızı.

14. Bir öykü yazarı olarak ben de birçok yazar gibi şiirle başladım yazın dünyasına. Önceleri kafiyeli şiir yazma çabası içinde olsam da kalemi elime aldığımda kendimi ölçüden, kafiyeden uzaklaşmış buluyordum her defasında. Bir gün şiirlerimi bir dergiye gönderdim. Gelen cevapta, öyküye yönelmem gerektiği yazıyordu. Önceleri tereddüt etsem de denemekten zarar gelmez diyerek başladım öyküler kaleme almaya. Öykücülüğün temelini de bu denemelerle attım diyebilirim. Şimdilerde çok satan öykü yazarlarının arasında olmamı sağlayan şey hem şiirlerim hem de beni öyküye yönelten derginin editörü desem eksik söylemiş sayılmam.

Yukarıdaki metinde aşağıdaki sorulardan hangisinin cevabı yoktur?

- A) Yazar edebiyata nasıl başlamıştır?
- B) Öykücülüğünün temelini ne ile atmıştır?
- C) Yazarın kafiyeli şiirleri beğenilmiş midir?
- D) Yazarın çok satan bir öykü yazarı olmasını ne sağlamıştır?

15. Fiilimsiler isim fiil, sıfat fiil ve zarf fiil olmak üzere üç grupta incelenir.

Buna göre aşağıdaki cümlelerin hangisinde her üç fiilimsi türüne örnek vardır?

- A) Annesinin sözlerini dinlemeyeli bütün işleri kötü gidiyor.
B) Buralara bahar gelmeden doğa canlanmaz.
C) Akşamki toplantıda anlatılacak konuyu duyunca küplere bindi.
D) Sanatçıyı görmek için gelen hayranları onu görünce bağırıyorlar.

16. 1. Konuklar güle oynaya çatı katına çıktı.
2. Çocukluk arkadaşını görür görmez tanıdı.
3. Geçerken bakkaldan ekme alın.

Yukarıdaki cümlelerde geçen zarf fiillerin anlam özellikleri hangi seçenekte doğru verilmiştir?

- | | 1. cümle | 2. cümle | 3. cümle |
|----|----------|----------|----------|
| A) | durum | zaman | durum |
| B) | zaman | durum | durum |
| C) | durum | zaman | zaman |
| D) | zaman | durum | zaman |

17. Okul arkadaşım... öğretmenlik yaptı.

Bu cümlede üç nokta ile belirtilen yere aşağıdakilerden hangisi getirilirse cümle, yer tamlayıcısı kazanmış olur?

- A) Zor şartlarda
B) On yıl
C) Anadolu'da
D) Hiç zorlanmadan

18. Küçük kardeşim, geçen hafta üç kitap okudu.

Bu cümlede aşağıdaki öğelerden hangisi yoktur?

- A) Yer tamlayıcısı
B) Belirtisiz nesne
C) Özne
D) Zarf tamlayıcısı

19. Aşağıdaki cümlelerin hangisinde bir yazım yanlışı vardır?

- A) Sınava birkaç hafta kalmış.
B) Sanıyorum 7'inci katta oturuyorlar.
C) 20. yüzyılda teknolojik alanda çok büyük gelişmeler oldu.
D) Bize küsmüş ki yüzümüze bakmadan yanımızdan geçiverdi.

20. Aşağıdaki cümlelerin hangisinde bir noktalama yanlışı yapılmıştır?

- A) Gece burada mı konaklasak acaba?
B) Bu ırmak sularını Ege Denizi'ne ulaştırır.
C) Oğluna pantolon, gömlek, kızına, şapka, etek almıştı.
D) Bahçede üç türlü çiçek vardı: kasımpatı, lale, sümbül.

1.

$705,08 = 7 \cdot 10^a + 5 \cdot 10^b + c \cdot 10^{-2}$ olduğuna göre $a+b+c$ kaçtır?

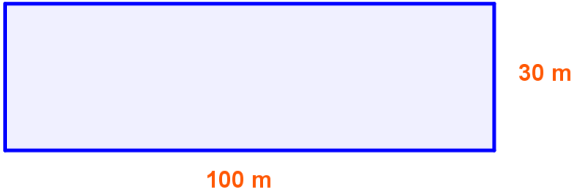
- A) 11 B) 10
C) 9 D) 8

2.

Aşağıdaki sayıların hangisinin asal çarpanlarının sayısı diğerlerinden fazladır?

- A) 400 B) 240
C) 420 D) 200

3.



Yukarıdaki gibi dikdörtgen şeklindeki bir tarla en büyük eş kare parsellere ayrılacaktır. Buna göre bu parsellerin köşelerine de ağaç dikmek şartı ile en az kaç adet ağaç dikilmelidir ?

- A) 60 B) 44
C) 30 D) 13

4.

Raif Ardışık sayılar aralarında asaldır.

Famile 1 ile bütün sayılar aralarında asaldır.

Ayşe Bütün tek ve çift sayılar aralarında asaldır.

Ahmet Ebob değeri 1 olan iki sayı aralarında asaldır.

Yukarıda hangi öğrencinin verdiği bilgi yanlıştır?

- A) Raif B) Famile C) Ayşe D) Ahmet

5.

$484 = a^b \cdot c^a$ ve $a = 2$ olduğuna göre c^b ifadesinin değeri kaçtır?

- A) 11 B) 13
C) 22 D) 121

6.

$\frac{2^4 \cdot 2^4 \cdot 2^4 \cdot 2^4}{4^2 + 4^2 + 4^2 + 4^2}$ işleminin sonucu

aşağıdakilerden hangisine eşittir?

- A) 4^{10} B) 2^{10}
C) 2^{-10} D) 2^{22}

7.

Bir göktaşı saniyede 60 milyon km yol almaktadır. 50 dakikada kaç km yol alır?

Yukarıdaki sorunun sonucu bilimsel gösterimle ifade edilmek istenirse sonuç aşağıdakilerden hangisi olur?

- A) $3 \cdot 10^{11}$ B) $1,8 \cdot 10^{-11}$
C) $1,8 \cdot 10^{11}$ D) $3 \cdot 10^{10}$

8.

$36, \sqrt{81}, 81, 3^8, 8^3$

Yukarıdaki ifadelerin kaç tanesi tam kare doğal sayıya örnek değildir?

- A) 1 B) 2
C) 3 D) 4

9.

$$3\sqrt{48} = a\sqrt{b}$$

a ve b doğal sayı olmak üzere, yukarıdaki ifadede b'nin en küçük değeri için a kaç olur?

- A) 3 B) 6
C) 12 D) 18

10.

$$\frac{(\sqrt{3})^3}{\sqrt{5}}$$

Yukarıdaki ifadenin eşiti aşağıdakilerden hangisi olabilir?

- A) $\frac{(\sqrt{3})^3}{5}$ B) $\frac{3\sqrt{15}}{5}$
C) $\frac{\sqrt{3}}{5}$ D) $\frac{\sqrt{27}}{15}$

11.

Aşağıdaki ifadelerin en büyüğü hangisidir?

- A) $5\sqrt{3}$ B) $-3\sqrt{41}$
C) $2\sqrt{9}$ D) $9\sqrt{2}$

12.

$$5\sqrt{75} \quad 9\sqrt{48}$$

Yukarıdaki ifadeleri aşağıdaki hangi kareköklü sayı ile çarparsak her ikisini birden rasyonel sayı yapar?

- A) $\sqrt{3}$ B) $\sqrt{6}$
C) $\sqrt{2}$ D) $\sqrt{5}$

13.

$$(-3)^{-x}$$

ifadesinin sonucuyla ilgili aşağıdakilerden hangisi yanlıştır?

- A) x negatif çift tam sayı ise sonuç negatiftir.
B) x negatif tek tam sayı ise sonuç negatiftir.
C) x çift doğal sayı ise sonuç pozitifdir.
D) x tek doğal sayı ise sonuç negatiftir.

14.

Eylül 3,14 rasyoneldir.

Hüseyin π (pi) sayısı irrasyoneldir.

Mustafa $3,1\bar{4}$ sayısı rasyoneldir.

Esra 3,14285... sayısı rasyoneldir.

Yukarıda hangi öğrencinin verdiği bilgi yanlıştır?

- A) **Eylül** B) **Hüseyin** C) **Mustafa** D) **Esra**

15.

$\sqrt{405}$ ifadesinin yaklaşık değeri bulunabilmesi için aşağıdakilerin hangisinin değeri bilinmelidir?

- A) $\sqrt{5}$ B) $\sqrt{3}$
C) $\sqrt{2}$ D) $\sqrt{21}$

16.

$$(-8)^2 = 16$$

(I)

$$(-3)^4 = -81$$

(II)

$$(-2)^7 = 7^{-2}$$

(III)

$$(-4)^3 = -64$$

(IV)

Yukarıdakilerden hangisinin sonucu doğrudur?

- A) I B) II C) III D) IV

17.

$$\left[(-13)^0\right]^{-2}$$

ifadesinin sonucuyla ilgili aşağıdakilerden hangisi doğrudur?

- A) Sıfıra eşittir.
 B) -1 ile 0 arasındadır.
 C) 0 ile 1 arasındadır.
 D) 1'e eşittir.

18.

$9^3 = \square$ ise 3^5 ifadesinin \square türünden değeri aşağıdakilerden hangisidir?

- A) $3 \cdot \square$ B) $(\square)^3$
 C) $\frac{\square}{3}$ D) $(\square)^{-1}$

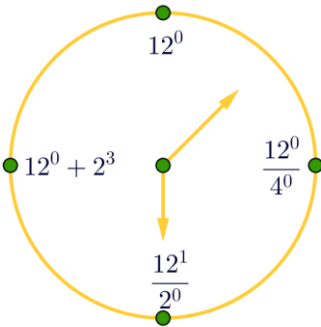
19.

Ahmet elindeki kağıdı iki eş parçaya kesiyor. Daha sonra bu iki eş parçanın her biri için aynı işlemi tekrar uyguluyor. Bu yeni oluşan parçalar için aynı işlemi 3 kere daha arka arkaya uyguluyor.

Son durumda toplam kaç parça kağıt oluşur?


- A) 128 B) 64
 C) 32 D) 16

20.



Yukarıda verilen matematik saatinde hangisi doğru yerleştirilmiştir?


- A) 12^0 B) $12^0 + 2^3$ C) $\frac{12^1}{2^0}$ D) $\frac{12^0}{4^0}$



Mahmut: Önemli olan Allah'ın bize verdiği süreyi onun rızasına uygun yaşamak.



Serhat: Kaza yapmamak için arabaya bindiğimde yola çıkmadan emniyet kemerimi takarım ve trafik kurallarına uyarım.



Mikail: İstediklerimi yapabilirim ama fiillerimin sonucuna katlanmam gerekiyor.



Musa: Bir insanın Afrika'da doğması onu diğer insanlardan aşağı yapmaz. Bu insanın elinde olmayan bir durumdur.

1. Yukarıda verilen kişilerin söylediği cümlelerde hangi konuya yer verilmemiştir?

- A) İnsan iradesi ve kader
B) Ecel
C) Özgürlük ve Sorumluluk
D) Emek ve Rızık

2. "Elif Nur TEOG'a bir hafta kaldığı için Din Kültürü ve Ahlak Bilgisi dersini tekrar etmeye karar vermiştir. Karşılaştığı bir soruda yer alan 'Geceyi ve gündüzü, Güneşi ve Ayı yaratan odur. Her biri bir yörüngede hareket etmektedir.' Ayetinin hangi konuya ait olduğunu hatırlayamaz. Kitabı açıp baktığında ayetin Konusuyla alakalı olduğunu öğrenmiştir."

Yukarıda verilen parçada boş bırakılan yere gelecek olan konu başlığı aşağıdakilerden hangisidir?

- A) Toplumsal Yasalar
B) Allah her şeyi bir ölçüye göre yaratmıştır.
C) İnsanın iradesi ve kader
D) İnsanın özgürlüğü ve sorumluluğu

Büşra: Kaplumbağaların kış uykusuna yatması

Ahmet: İnsanların kuraklık sonucu göç etmeleri

Merve: Etle beslenen hayvanların çene yapılarının otla beslenenlerinkinden farklı olması

Betül: Hayvanların yavrulaması

3. Buna göre, Evrensel yasalarla ilgili hangi öğrencinin verdiği örnek diğerlerinden farklıdır?

- A) Büşra
B) Ahmet
C) Merve
D) Betül

" Allah'a dayandım! Diye sen çıkma yataktan. Manayı tevekkül bu mudur? Hey gidi nadan! Ecdadını, zannetme asırlarca uyurdu; Nerden bulacaktın o zaman eldeki yurdu? "

4. Verilen şiirde vurgulanan ana fikir aşağıdakilerden hangisidir?

- A) Tevekkül anlayışında önemli olan dua etmektir.
B) Bir işin olması için 'Allah'a dayandım' demek yeterlidir.
C) Tevekkül pasif bir bekleme değildir.
D) Herkesin belirli bir yaşam süresi vardır.

5. "Müminler birbirlerine merhamet etmekte, birbirlerini sevmekte ve birbirlerini korumakta bir vücudun organları gibidir. Vücudun herhangi bir organı hastalandığında bütün vücut bundan rahatsız olur. Aynı şekilde bir mümin de sıkıntı içinde bulunduğu, diğer müminler onun sıkıntısını, derdini ve üzüntüsünü paylaşırlar. " hadisi şerif

Yukarıda verilen Hadisi Şerife dikkate aldığımızda aşağıdakilerden hangisi yanlıştır?

- A) İslam dini, Müslümanların birlik olmasını ve kardeşlerinin derdini paylaşmasını ister.
B) Allah insana merhamet duygusunu vermiştir. İnsan da bu merhamet duygusunu Müslüman kardeşine yansır.
C) Paylaşmak sadece maddi şeyleri bölüşmek değildir. İslam manevi olan birçok şeyin de paylaşılabilirliğini bize öğretmiştir.
D) İnsan kendi yaşantısını ve ailesinin geçimini sağlamakla yükümlüdür. Her insan kendi sıkıntısını kendisi yüklenmelidir.

- I. "Dinde zorlama yoktur. Artık doğrulukla eğrilik birbirinden ayrılmıştır..." Bakara suresi, 256. ayet
- II. "Şüphesiz biz ona (doğru) yolu gösterdik. İster şükredici olsun ister nankör." İnsan suresi, 3. ayet.
- III. "...Hiçbir kimse başkasının günahını yüklenmez..." Zümer suresi, 7. ayet.
- IV. "Allah, hiç kimseye gücünün üstünde bir şey yüklemeyiz. Herkesin kazandığı iyilik kendi yararına, kötülük de kendi zararındır..." Bakara suresi, 286. ayet

6. Yukarıda verilen ayetlere aşağıda ki öğrencilerin yaptığı yorumlardan hangisi **yanlıştır**?

A)



Allah insanı istediği her şeyden sorumlu tutar. İnsan gücünün yetmediği işlerde bile sorumluluk sahibidir.

B)



Kimse başkasının yaptığı işten sorumlu tutulamaz.

C)



İnsana seçim yapabilmesi için irade verilmiştir. Seçimlerinin sonucuna katlanır.

D)



Kimseyi zorlamayla doğruya ulaştıramayız. Herkes istediğini yapmakta özgürdür.

Allah'ın başlangıçtan sona kadar evrende olacak her şeyi planlamasına programladığı şeylerin yeri ve zamanı geldiğinde gerçekleşmesine..... denir.

7. Cümlede boş bırakılan yerlere sırasıyla aşağıdakilerden hangileri getirilmelidir?

- | | |
|-----------------|-----------------|
| A) Emek - Rızık | B) Kaza – Kader |
| C) Ecel – Ömür | D) Kader – Kaza |

8. Yakın çevremize bir bakalım. Ay, Dünya etrafında; Dünya, Güneş etrafında; Güneş ise kendine bağlı galaksiler etrafında şaşmaz bir düzen içinde dönmektedir. Bu düzen de milyarlarca yıl devam etmektedir. Atmosferimiz ise uzaydan gelen gök taşlarını sürtünme ile eritip yok etmektedir. Bu örnekleri okyanustaki damlalar kadar, çöllerdeki kum taneleri kadar çoğaltabiliriz.

Buna göre, aşağıdaki öğrencilerin hangisinin evren ile ilgili yaptığı açıklama **yanlıştır**?

- A) Eren : Evrende bulunan her şey bir ölçüye göre yaratılmıştır.
- B) Asım : Evrende düzen ve uyumu sağlayan ölçütler vardır.
- C) Aslı : Evrendeki düzen ve uyum kendiliğinden oluşmuştur.
- D) Osman : Dünyada her şey mükemmel bir şekilde yaratılmıştır.

- Onlar, kendi canları çekmesine rağmen yemeği yoksula, yetime, esire yedirirler. (İnsan suresi 8. Ayet)
- Onların (zenginlerin) mallarında, muhtaç ve yoksullar için bir hak vardır. (Zariyat suresi 19. Ayet)

9. Yukarıdaki ayetlerde aşağıdakilerden hangisinin önemini vurgulanmıştır?

- A) İyi arkadaşlıklar kurmak
- B) İstişarenin önemi
- C) Paylaşma ve yardımlaşma
- D) Emanetin korunması

10. Kelime anlamı 'Ölçü, miktar, düzen ve belirlemek olan kavram aşağıdakilerden hangisidir?

- | | |
|----------|-------------|
| A) Kader | B) İrade |
| C) Kaza | D) Tevekkül |

Güneşin doğup batması,
Mevsimlerin oluşması,
Gece-gündüzün oluşması,
Dünyanın dönüş hızının belli ölçülerde olması,

11. Yukarıdaki örnekler aşağıdaki konulardan hangisiyle ilgilidir?

- A) Evrenin İnsana Faydası B) Evrendeki Güzellikler
C) Evrendeki düzen ve uyum D) Evren İnsan İlişkisi

12. " Dinde zorlama yoktur. Artık doğrulukla eğrilik birbirinden ayrılmıştır" (Bakara suresi 256. Ayet)

Yukarıda verilen ayetle vurgulanan ana düşünce aşağıdakilerden hangisidir?

- A) Özgür irade B) Kader
C) Tevekkül D) Evrensel yasalar

I. Gemilerin suda batmadan yüzmesi	Fiziksel yasalar
II. Kuraklık sonucu insanlar şehirlere göç eder.	Toplumsal yasalar
III. Her canlının üreme şeklinin ve yaratılışının farklı şekilde olması,	Biyolojik yasalar
IV. Kur'an'da anlatılan kıssalar	Fiziksel yasalar
V. Kuşların uçabilmek için kanada ihtiyaç duyması	Toplumsal yasalar

13. Evrensel yasalarla ilgili yukarıda tabloda verilen bilgilerden hangileri yanlış eşleştirilmiştir?

- A) I.II B) IV.V.
C) V.III D) II.IV.

14. Aşağıdakilerden hangisi insanın iradesinin dışında kalır?

- A) Göz rengi B) Mesleği
C) Arkadaşı D) Dini

15. '...Hiçbir kimse başkasının günahını yüklenmez.'(Zümer,7.ayet)

Bu ayette insanın hangi özelliğine vurgu yapılmaktadır?

- A) Çalışkanlığına B) Sinirliliğine
C) Sorumluluğuna D) Akıllı bir varlık oluşuna

16. Emek ve rızık konusunda aşağıda verilenlerden hangisi yanlıştır?

- A) Peygamberler rızıklarını çalışarak elde etmişlerdir.
B) Sağlık bizim için rızıktır.
C) İslam dininde dilenmek yasaklanmıştır.
D) Sürekli dua ederek rızık beklemek gerekir.

17. 'İnananlar yalnız Allah'a dayanıp güvensinler.'(İbrahim,11.ayet)

Yukarıdaki ayetin konusu aşağıdakilerden hangisidir?

- A) Tevekkül B) Teekkül
C) Tedbir D) Tembih

18. Ayete'l Kürsi ile ilgili verilen bilgilerden hangisi yanlıştır?

- A) Bakara suresinde yer alır.
B) İki ayettir.
C) Allah'ın birliği ve sıfatlarından bahseder.
D) Kürsi, Allah'ın sonsuz gücü ve kudreti anlamına gelir.

19. Sosyal bir varlık olan insan için paylaşma, ve bir ihtiyaçtır.

Yukarıdaki boşluğa aşağıdakilerden hangisi gelmelidir?

- A) Ekonomik-siyasal B) Sevgi –saygı
C) Maddi-manevi D) Manevi-duygusal



20. "Yukarıda verilen ve soru işareti bulunan boşluklara sırasıyla aşağıdakilerin hangisi getirilmelidir?"

- A) Kader, Kaza, Ecel B) Kaza, Kader, Ecel
C) Kader, Ecel, Kaza D) Ecel, Kaza, Kader



BU DENEME SINAVI

ŞANLIURFA İL MİLLÎ EĞİTİM MÜDÜRLÜĞÜ

AR-GE BİRİMİ TARAFINDAN YÜRÜTÜLEN

“EĞİTİMDE BAŞARIYI ARTTIRMA PROJESİ” KAPSAMINDA

GÖNÜLLÜ ÖĞRETMENLER KAZANIM TESTİ HAZIRLAMA EKİBİ TARAFINDAN HAZIRLANMIŞTIR.

ŞANLIURFA İL MİLLÎ EĞİTİM MÜDÜRLÜĞÜ

HER CUMA <http://sanliurfaerge.meb.gov.tr> ADRESİNDE 8. SINIFLAR İÇİN

KAZANIM TESTLERİ YAYINLAMAKTADIR.



Görüş ve önerilerinizi urfaebap63@gmail.com adresine yazabilirsiniz.



twitter.com/UrfaMem



[Facebook.com/sanliurfamem63](https://facebook.com/sanliurfamem63)